

5 Wyjaśnij, dlaczego surowce skalne, takie jak piaski, żwiry i gliny, występują na przeważającym obszarze Polski.

(... / 2 p.)

6 Na mapie numerami 1–3 zaznaczono główne miejsca występowania trzech surowców mineralnych. Wykonaj polecenia.

(... / 3 p.)

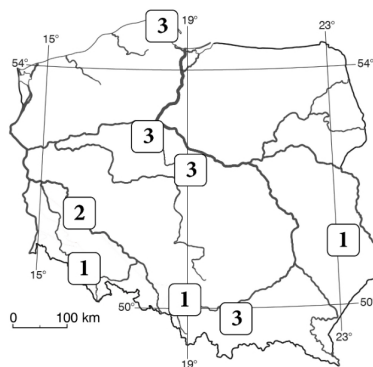
a) Podkreśl poprawne uzupełnienia zdań.

Złoża soli kamiennej oznaczono na mapie numerem 1 / 2 / 3. Sól kamienna należy do surowców *skalnych* / *chemicznych*. Jest wykorzystywana do produkcji *chloru* / *farb*.

b) Rozpoznaj pozostałe surowce mineralne oznaczone na mapie.

Numer: _____ Nazwa surowca: _____

Numer: _____ Nazwa surowca: _____



7 Uzupełnij zdania odpowiednimi informacjami.

(... / 3 p.)

A. Jedną z cech ukształtowania terenu Polski jest nachylenie jej obszaru w kierunku _____.

B. Ponad 90% obszaru Polski to tereny położone poniżej _____ m n.p.m.

C. Charakterystyczną cechą rzeźby terenu naszego kraju jest jej _____ układ.

8 Do wymienionych cech dopisz właściwą nazwę pasa rzeźby terenu.

(... / 3 p.)

A. Występują tu klify i mierzeje. _____

B. W tym pasie znajdują się Karkonosze. _____

C. Częścią tego pasa jest zbudowana z wapieni Brama Krakowska. _____

D. Najwyższym wzniesieniem tego pasa jest Wieżyca. _____

9 Zaznacz dwa podpunkty, które zawierają prawdziwe informacje. Skorzystaj z mapy średnich wartości temperatury powietrza w lipcu.

(... / 1 p.)

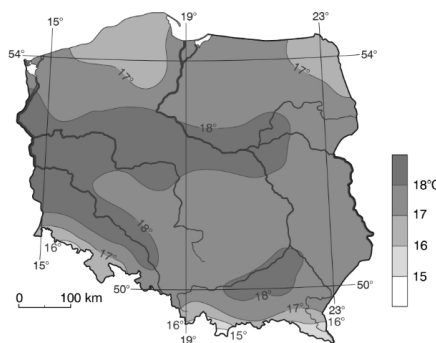
A. Najwyższe wartości temperatury powietrza w lipcu obserwuje się na zachodzie i w centrum kraju oraz w pasie kotlin.

B. Poza terenami górskimi najniższe średnie wartości temperatury powietrza w lipcu odnotowuje się na Nizinie Mazowieckiej.

C. Bliskość Morza Bałtyckiego latem wpływa na obniżenie temperatury powietrza w pasie pobrażu.

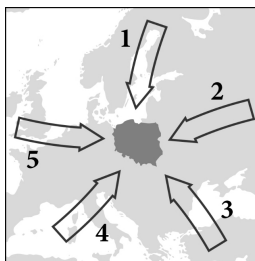
D. Rozkład średniej temperatury powietrza w lipcu ma przebieg zbliżony do południkowego.

E. Na wschód od południka 19°E średnia temperatura powietrza w lipcu nie spada poniżej 17°C.



10 Uzupełnij tabelę. Do każdego opisu pogody dopasuj kształtującą ją masę powietrza, wybraną spośród wymienionych poniżej, oraz numer (1–5), którym oznaczono tę masę na mapie.

PA – powietrze arktyczne
 PPK – powietrze polarne kontynentalne
 PPM – powietrze polarne morskie
 PZk – powietrze zwrotnikowe kontynentalne
 PZm – powietrze zwrotnikowe morskie



	Rodzaj pogody	Masa powietrza (skrót)	Numer na mapie
A.	odwilż, opady deszczu ze śniegiem lub deszczu zimą		
B.	ochłodzenie i przymrozki wiosną		
C.	ciepła, sucha i słoneczna pogoda jesienią		

11 Podkreśl poprawne uzupełnienia zdań.

Polska leży w zasięgu klimatu umiarkowanego ciepłego *morskiego / przejściowego*.
 Klimat naszego kraju jest kształtowany głównie przez Niż Islandzki i Wyz Azorski /
Azjatycki. Powodują one napływ różnych mas powietrza nad obszar naszego kraju. Cechą
 charakterystyczną klimatu Polski jest *wzrost / spadek* rocznej amplitudy temperatury
 powietrza w kierunku wschodnim, spowodowany oddalaniem się od *Oceanu*
Atlantyckiego / kontynentu azjatyckiego. Na klimat północno-zachodniej części Polski
 oddziałuje Morze Bałtyckie, powodując *podwyższenie / obniżenie* temperatury powietrza
 latem i *podwyższenie / obniżenie* zimą.